

Name:	
Klasse:	



Standardisierte kompetenzorientierte  
schriftliche Reifeprüfung

AHS

28. September 2017

# Mathematik

Teil-1-Aufgaben

**BMB**

Bundesministerium  
für Bildung



# Hinweise zur Aufgabenbearbeitung

Sehr geehrte Kandidatin! Sehr geehrter Kandidat!

Das vorliegende Aufgabenheft zu Teil 1 enthält 24 Aufgaben. Die Aufgaben sind unabhängig voneinander bearbeitbar. Ihnen stehen dafür *120 Minuten* an reiner Arbeitszeit zur Verfügung.

Verwenden Sie einen nicht radierbaren, blau oder schwarz schreibenden Stift. Bei Konstruktionsaufgaben ist auch die Verwendung eines Bleistifts möglich.

Verwenden Sie zur Bearbeitung ausschließlich dieses Aufgabenheft. Schreiben Sie Ihren Namen auf der ersten Seite des Aufgabenheftes in das dafür vorgesehene Feld.

Alle Antworten müssen in das Aufgabenheft geschrieben werden. In die Beurteilung wird alles einbezogen, was nicht durchgestrichen ist. Die Lösung muss dabei klar ersichtlich sein. Wenn die Lösung nicht klar ersichtlich ist oder verschiedene Lösungen angegeben sind, gilt die Aufgabe als nicht gelöst. Streichen Sie Ihre Notizen durch.

Sie dürfen eine approbierte Formelsammlung sowie die gewohnten elektronischen Hilfsmittel verwenden.

Das Aufgabenheft ist abzugeben.

## Beurteilung

Jede Aufgabe in Teil 1 wird mit 0 Punkten oder 1 Punkt bewertet, jede Teilaufgabe in Teil 2 mit 0, 1 oder 2 Punkten. Die mit **A** gekennzeichneten Aufgabenstellungen werden mit 0 Punkten oder 1 Punkt bewertet.

- Werden im Teil 1 mindestens 16 von 24 Aufgaben richtig gelöst, wird die Arbeit positiv bewertet.
- Werden im Teil 1 weniger als 16 von 24 Aufgaben richtig gelöst, werden mit **A** markierte Aufgabenstellungen aus Teil 2 zum Ausgleich (für den laut LBVO „wesentlichen Bereich“) herangezogen.  
Werden unter Berücksichtigung der mit **A** markierten Aufgabenstellungen aus Teil 2 mindestens 16 Aufgaben richtig gelöst, wird die Arbeit positiv bewertet.  
Werden auch unter Berücksichtigung der mit **A** markierten Aufgabenstellungen aus Teil 2 weniger als 16 Aufgaben richtig gelöst, wird die Arbeit mit „Nicht genügend“ beurteilt.
- Werden im Teil 1 mindestens 16 Punkte (mit Berücksichtigung der Ausgleichspunkte **A**) erreicht, so gilt folgender Beurteilungsschlüssel:

Genügend	16–23 Punkte
Befriedigend	24–32 Punkte
Gut	33–40 Punkte
Sehr gut	41–48 Punkte

## Erläuterung der Antwortformate

Die Aufgaben haben einerseits **freie Antwortformate**; dabei schreiben Sie Ihre Antwort direkt unter die jeweilige Aufgabenstellung in das Aufgabenheft. Weitere Antwortformate, die in der Klausur zum Einsatz kommen können, werden im Folgenden vorgestellt:

**Zuordnungsformat:** Dieses Antwortformat ist durch mehrere Aussagen (bzw. Tabellen oder Abbildungen) gekennzeichnet, denen mehrere Antwortmöglichkeiten gegenüberstehen. Bearbeiten Sie Aufgaben dieses Formats korrekt, indem Sie die Antwortmöglichkeiten durch Eintragen der **entsprechenden Buchstaben** den jeweils zutreffenden Aussagen zuordnen!

### Beispiel:

Gegeben sind zwei Gleichungen.

$1 + 1 = 2$	A
$2 \cdot 2 = 4$	C

A	Addition
B	Division
C	Multiplikation
D	Subtraktion

### Aufgabenstellung:

Ordnen Sie den zwei Gleichungen jeweils die entsprechende Bezeichnung (aus A bis D) zu!

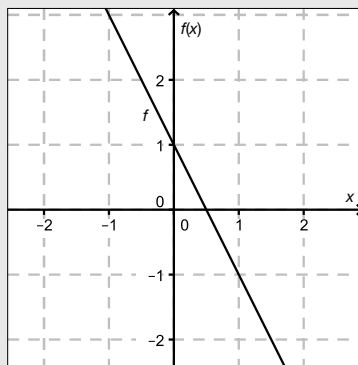
**Konstruktionsformat:** Eine Aufgabe und deren Aufgabenstellung sind vorgegeben. Die Aufgabe erfordert die Ergänzung von Punkten, Geraden und/oder Kurven im Aufgabenheft.

**Beispiel:**

Gegeben ist eine lineare Funktion  $f$  mit  $f(x) = k \cdot x + d$ .

**Aufgabenstellung:**

Zeichnen Sie den Graphen einer linearen Funktion mit den Bedingungen  $k = -2$  und  $d > 0$  in das vorgegebene Koordinatensystem ein!



**Multiple-Choice-Format in der Variante „1 aus 6“:** Dieses Antwortformat ist durch einen Fragenstamm und sechs Antwortmöglichkeiten gekennzeichnet, wobei **eine Antwortmöglichkeit** auszuwählen ist. Bearbeiten Sie Aufgaben dieses Formats korrekt, indem Sie die einzige zutreffende Antwortmöglichkeit ankreuzen!

**Beispiel:**

Welche Gleichung ist korrekt?

**Aufgabenstellung:**

Kreuzen Sie die zutreffende Gleichung an!

$1 + 1 = 1$	<input type="checkbox"/>
$2 + 2 = 2$	<input type="checkbox"/>
$3 + 3 = 3$	<input type="checkbox"/>
$4 + 4 = 8$	<input checked="" type="checkbox"/>
$5 + 5 = 5$	<input type="checkbox"/>
$6 + 6 = 6$	<input type="checkbox"/>

**Multiple-Choice-Format in der Variante „2 aus 5“:** Dieses Antwortformat ist durch einen Fragenstamm und fünf Antwortmöglichkeiten gekennzeichnet, wobei **zwei Antwortmöglichkeiten** auszuwählen sind. Bearbeiten Sie Aufgaben dieses Formats korrekt, indem Sie die beiden zutreffenden Antwortmöglichkeiten ankreuzen!

**Beispiel:**

Welche Gleichungen sind korrekt?

**Aufgabenstellung:**

Kreuzen Sie die beiden zutreffenden Gleichungen an!

$1 + 1 = 1$	<input type="checkbox"/>
$2 + 2 = 4$	<input checked="" type="checkbox"/>
$3 + 3 = 3$	<input type="checkbox"/>
$4 + 4 = 8$	<input checked="" type="checkbox"/>
$5 + 5 = 5$	<input type="checkbox"/>

**Multiple-Choice-Format in der Variante „x aus 5“:** Dieses Antwortformat ist durch einen Fragenstamm und fünf Antwortmöglichkeiten gekennzeichnet, wobei **eine, zwei, drei, vier oder fünf Antwortmöglichkeiten** auszuwählen sind. In der Aufgabenstellung finden Sie stets die Aufforderung „Kreuzen Sie die zutreffende(n) Aussage(n)/ Gleichung(en)/... an!“. Bearbeiten Sie Aufgaben dieses Formats korrekt, indem Sie die zutreffende Antwortmöglichkeit/die zutreffenden Antwortmöglichkeiten ankreuzen!

**Beispiel:**  
Welche der gegebenen Gleichungen ist/sind korrekt?

1 + 1 = 2	<input checked="" type="checkbox"/>
2 + 2 = 4	<input checked="" type="checkbox"/>
3 + 3 = 6	<input checked="" type="checkbox"/>
4 + 4 = 4	<input type="checkbox"/>
5 + 5 = 10	<input checked="" type="checkbox"/>

**Aufgabenstellung:**  
Kreuzen Sie die zutreffende(n) Gleichung(en) an!

**Lückentext:** Dieses Antwortformat ist durch einen Satz mit zwei Lücken gekennzeichnet, das heißt, im Aufgabentext sind zwei Stellen ausgewiesen, die ergänzt werden müssen. Für jede Lücke werden je drei Antwortmöglichkeiten vorgegeben. Bearbeiten Sie Aufgaben dieses Formats korrekt, indem Sie die Lücken durch Ankreuzen der **beiden zutreffenden Antwortmöglichkeiten** füllen!

**Beispiel:**  
Gegeben sind 3 Gleichungen.

**Aufgabenstellung:**  
Ergänzen Sie die Textlücken im folgenden Satz durch Ankreuzen der jeweils richtigen Satzteile so, dass eine korrekte Aussage entsteht!

Die Gleichung \_\_\_\_\_<sup>①</sup>\_\_\_\_\_ wird als Zusammenzählung oder \_\_\_\_\_<sup>②</sup>\_\_\_\_\_ bezeichnet.

①	
1 - 1 = 0	<input type="checkbox"/>
1 + 1 = 2	<input checked="" type="checkbox"/>
1 · 1 = 1	<input type="checkbox"/>

②	
Multiplikation	<input type="checkbox"/>
Subtraktion	<input type="checkbox"/>
Addition	<input checked="" type="checkbox"/>

**So ändern Sie Ihre Antwort bei Aufgaben zum Ankreuzen:**

- Übermalen Sie das Kästchen mit der nicht mehr gültigen Antwort.
- Kreuzen Sie dann das gewünschte Kästchen an.

1 + 1 = 3	<input type="checkbox"/>
2 + 2 = 4	<input checked="" type="checkbox"/>
3 + 3 = 5	<input type="checkbox"/>
4 + 4 = 4	<input type="checkbox"/>
5 + 5 = 9	<input checked="" type="checkbox"/>

Hier wurde zuerst die Antwort „5 + 5 = 9“ gewählt und dann auf „2 + 2 = 4“ geändert.

**So wählen Sie eine bereits übermalte Antwort:**

- Übermalen Sie das Kästchen mit der nicht mehr gültigen Antwort.
- Kreisen Sie das gewünschte übermalte Kästchen ein.

1 + 1 = 3	<input type="checkbox"/>
2 + 2 = 4	<input checked="" type="checkbox"/>
3 + 3 = 5	<input type="checkbox"/>
4 + 4 = 4	<input checked="" type="checkbox"/>
5 + 5 = 9	<input type="checkbox"/>

Hier wurde zuerst die Antwort „2 + 2 = 4“ übermalte und dann wieder gewählt.

Wenn Sie jetzt noch Fragen haben, wenden Sie sich bitte an Ihre Lehrerin/Ihren Lehrer!

**Viel Erfolg bei der Bearbeitung!**

# Aufgabe 1

## Zahlenmengen

Untenstehend werden Aussagen über Zahlen aus den Zahlenmengen  $\mathbb{N}$ ,  $\mathbb{Z}$ ,  $\mathbb{Q}$ ,  $\mathbb{R}$  und  $\mathbb{C}$  getroffen.

Aufgabenstellung:

Kreuzen Sie die zutreffende(n) Aussage(n) an!

Jede reelle Zahl ist eine rationale Zahl.	<input type="checkbox"/>
Jede natürliche Zahl ist eine rationale Zahl.	<input type="checkbox"/>
Jede ganze Zahl ist eine reelle Zahl.	<input type="checkbox"/>
Jede rationale Zahl ist eine reelle Zahl.	<input type="checkbox"/>
Jede komplexe Zahl ist eine reelle Zahl.	<input type="checkbox"/>

## Aufgabe 2

### Lösungen einer quadratischen Gleichung

Gegeben ist eine quadratische Gleichung  $x^2 + p \cdot x - 3 = 0$  mit  $p \in \mathbb{R}$ .

**Aufgabenstellung:**

Ergänzen Sie die Textlücken im folgenden Satz durch Ankreuzen der jeweils richtigen Satzteile so, dass eine korrekte Aussage entsteht!

Diese Gleichung hat \_\_\_\_\_<sup>①</sup>\_\_\_\_\_, wenn \_\_\_\_\_<sup>②</sup>\_\_\_\_\_ gilt.

①	
unendlich viele reelle Lösungen	<input type="checkbox"/>
genau eine reelle Lösung	<input type="checkbox"/>
keine reelle Lösung	<input type="checkbox"/>

②	
$\frac{p^2}{4} + 3 > 0$	<input type="checkbox"/>
$\frac{p^2}{4} + 3 < 0$	<input type="checkbox"/>
$\frac{p^2}{4} + 3 > 1$	<input type="checkbox"/>

# Aufgabe 3

## Projektwoche

An einer Projektwoche nehmen insgesamt 25 Schüler/innen teil. Die Anzahl der Mädchen wird mit  $x$  bezeichnet, die Anzahl der Burschen mit  $y$ . Die Mädchen werden in 3-Bett-Zimmern untergebracht, die Burschen in 4-Bett-Zimmern, insgesamt stehen 7 Zimmer zur Verfügung. Die Betten aller 7 Zimmer werden belegt, es bleiben keine leeren Betten übrig.

### Aufgabenstellung:

Mithilfe eines Gleichungssystems aus zwei der nachstehenden Gleichungen kann die Anzahl der Mädchen und die Anzahl der Burschen berechnet werden.

Kreuzen Sie die beiden zutreffenden Gleichungen an!

$x + y = 7$	<input type="checkbox"/>
$x + y = 25$	<input type="checkbox"/>
$3 \cdot x + 4 \cdot y = 7$	<input type="checkbox"/>
$\frac{x}{3} + \frac{y}{4} = 7$	<input type="checkbox"/>
$\frac{x}{3} + \frac{y}{4} = 25$	<input type="checkbox"/>

# Aufgabe 4

## Würstelstand

Ein Würstelstandbesitzer führt Aufzeichnungen über die Anzahl der täglich verkauften Würstel. Die Aufzeichnung eines bestimmten Tages ist nachstehend angegeben:

	Anzahl der verkauften Portionen	Verkaufspreis pro Portion (in Euro)	Einkaufspreis pro Portion (in Euro)
Frankfurter	24	2,70	0,90
Debreziner	14	3,00	1,20
Burenwurst	11	2,80	1,00
Käsekrainer	19	3,20	1,40
Bratwurst	18	3,20	1,20

Die mit Zahlenwerten ausgefüllten Spalten der Tabelle können als Vektoren angeschrieben werden. Dabei gibt der Vektor  $A$  die Anzahl der verkauften Portionen, der Vektor  $B$  die Verkaufspreise pro Portion (in Euro) und der Vektor  $C$  die Einkaufspreise pro Portion (in Euro) an.

### Aufgabenstellung:

Geben Sie einen Ausdruck mithilfe der Vektoren  $A$ ,  $B$  und  $C$  an, der den an diesem Tag erzielten Gesamtgewinn des Würstelstandbesitzers bezogen auf den Verkauf der Würstel beschreibt!

Gesamtgewinn = \_\_\_\_\_



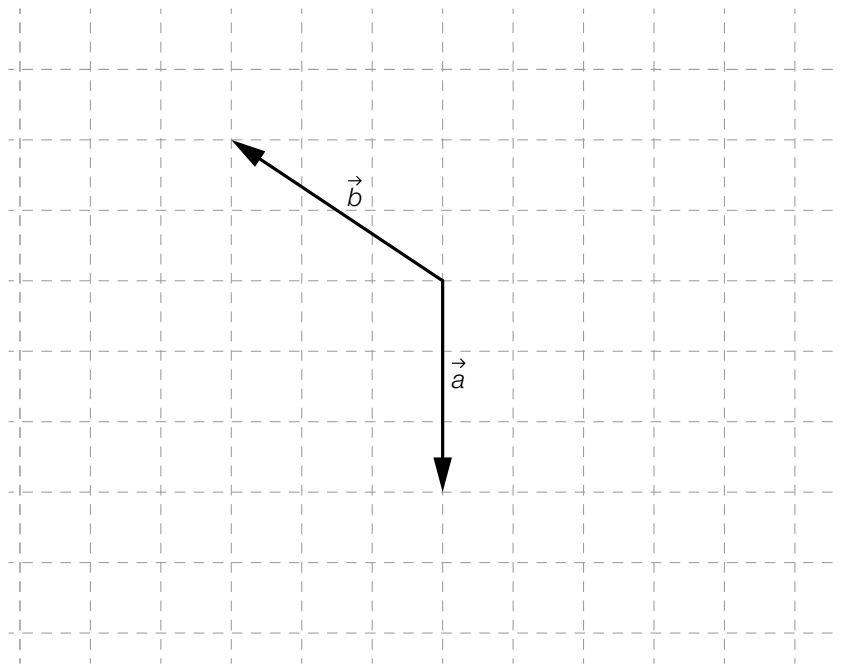
## Aufgabe 5

### Vektoren in der Ebene

Die unten stehende Abbildung zeigt zwei Vektoren  $\vec{a}$  und  $\vec{b}$ .

**Aufgabenstellung:**

Zeichnen Sie in die Abbildung einen Vektor  $\vec{c}$  so ein, dass die Summe der drei Vektoren den Nullvektor ergibt, also  $\vec{a} + \vec{b} + \vec{c} = \begin{pmatrix} 0 \\ 0 \end{pmatrix}$  gilt!



## Aufgabe 6

### Sinkgeschwindigkeit

Ein Kleinflugzeug befindet sich im Landeanflug mit einer Neigung von  $\alpha$  (in Grad) zur Horizontalen. Es hat eine Eigengeschwindigkeit von  $v$  (in m/s).

#### Aufgabenstellung:

Geben Sie eine Formel für den Höhenverlust  $x$  (in m) an, den das Flugzeug bei dieser Neigung und dieser Eigengeschwindigkeit in einer Sekunde erfährt!

# Aufgabe 7

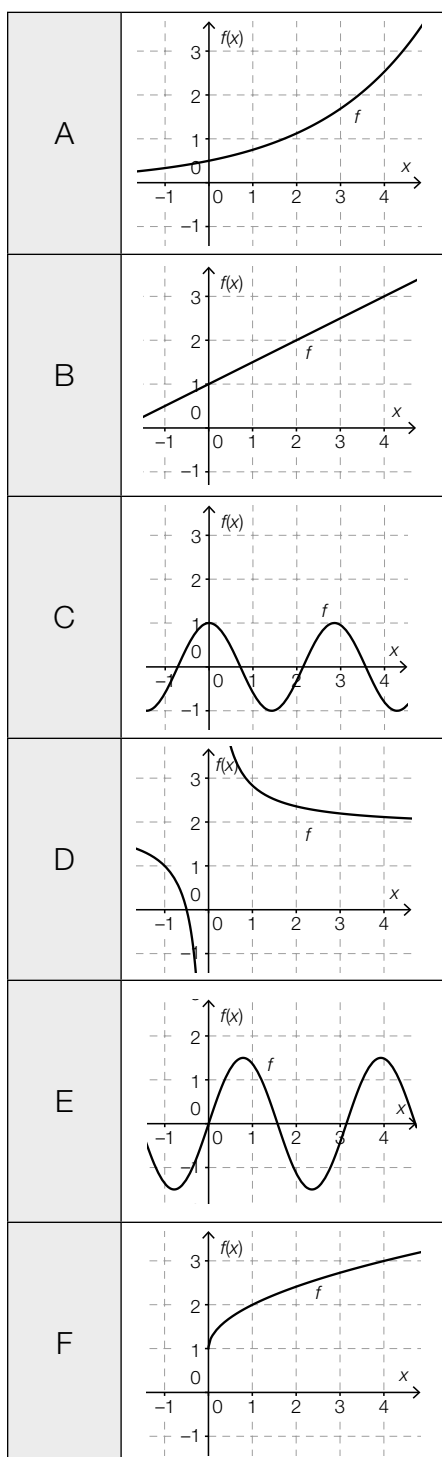
## Funktionstypen

Im Folgenden sind vier Funktionsgleichungen (mit  $a, b \in \mathbb{R}^+$ ) angeführt und die Graphen von sechs reellen Funktionen dargestellt.

Aufgabenstellung:

Ordnen Sie den vier Funktionsgleichungen jeweils den passenden Graphen (aus A bis F) zu!

$f(x) = a \cdot \sin(b \cdot x)$	
$f(x) = a \cdot b^x$	
$f(x) = a \cdot \sqrt{x} + b$	
$f(x) = a \cdot x + b$	



## Aufgabe 8

### Wert eines Gegenstandes

Der Wert eines bestimmten Gegenstandes  $t$  Jahre nach der Anschaffung wird mit  $W(t)$  angegeben und kann mithilfe der Gleichung  $W(t) = -k \cdot t + d$  ( $k, d \in \mathbb{R}^+$ ) berechnet werden ( $W(t)$  in Euro).

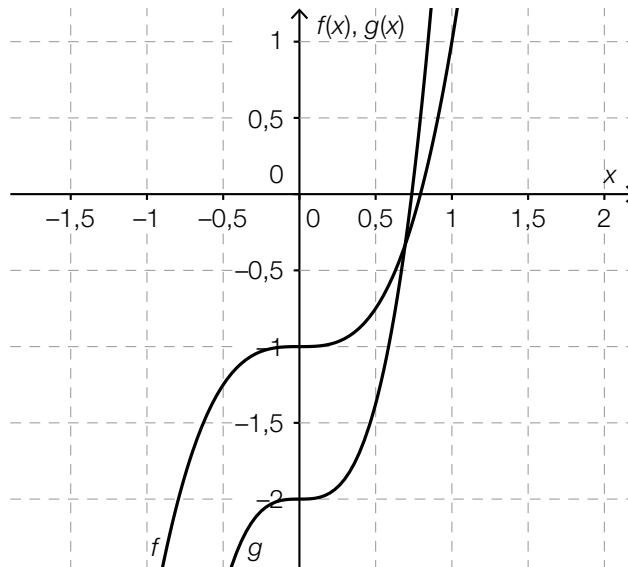
#### Aufgabenstellung:

Geben Sie die Bedeutung der Parameter  $k$  und  $d$  im Hinblick auf den Wert des Gegenstandes an!

# Aufgabe 9

## Parameter reeller Funktionen

Die nachstehende Abbildung zeigt die Graphen zweier reeller Funktionen  $f$  und  $g$  mit den Funktionsgleichungen  $f(x) = a \cdot x^3 + b$  und  $g(x) = c \cdot x^3 + d$  mit  $a, b, c, d \in \mathbb{R}$ .



### Aufgabenstellung:

Welche der nachstehenden Aussagen treffen für die Parameter  $a, b, c$  und  $d$  zu?  
Kreuzen Sie die beiden zutreffenden Aussagen an!

$a > c$	<input type="checkbox"/>
$b > d$	<input type="checkbox"/>
$a > 0$	<input type="checkbox"/>
$b > 0$	<input type="checkbox"/>
$c < 1$	<input type="checkbox"/>

# Aufgabe 10

## Exponentialfunktion

Von einer Exponentialfunktion  $f$  sind die folgenden Funktionswerte bekannt:

$$f(0) = 12 \text{ und } f(4) = 192$$

### Aufgabenstellung:

Geben Sie eine Funktionsgleichung der Exponentialfunktion  $f$  an!

$$f(x) = \underline{\hspace{15em}}$$

# Aufgabe 11

## Dicke einer Bleischicht

Die Intensität elektromagnetischer Strahlung nimmt bei Durchdringung eines Körpers exponentiell ab.

Die Halbwertsdicke eines Materials ist diejenige Dicke, nach deren Durchdringung die Intensität der Strahlung auf die Hälfte gesunken ist. Die Halbwertsdicke von Blei liegt für die beobachtete Strahlung bei 0,4 cm.

### Aufgabenstellung:

Bestimmen Sie diejenige Dicke  $d$ , die eine Bleischicht haben muss, damit die Intensität auf 12,5 % der ursprünglichen Intensität gesunken ist!

$d =$  \_\_\_\_\_ cm

# Aufgabe 12

## Periodizität

Gegeben ist eine reelle Funktion  $f$  mit der Funktionsgleichung  $f(x) = 3 \cdot \sin(b \cdot x)$  mit  $b \in \mathbb{R}$ .

### Aufgabenstellung:

Einer der nachstehend angegebenen Werte gibt die (kleinste) Periodenlänge der Funktion  $f$  an. Kreuzen Sie den zutreffenden Wert an!

$\frac{b}{2}$	<input type="checkbox"/>
$b$	<input type="checkbox"/>
$\frac{b}{3}$	<input type="checkbox"/>
$\frac{\pi}{b}$	<input type="checkbox"/>
$\frac{2\pi}{b}$	<input type="checkbox"/>
$\frac{\pi}{3}$	<input type="checkbox"/>



# Aufgabe 13

## Angestelltengehalt

Das Bruttogehalt eines bestimmten Angestellten betrug im Jahr 2008 monatlich € 2.160.

In den folgenden sechs Jahren ist sein monatliches Bruttogehalt durchschnittlich um € 225 pro Jahr gestiegen.

### Aufgabenstellung:

Geben Sie die prozentuelle Änderung des monatlichen Bruttogehalts im gesamten betrachteten Zeitraum von 2008 bis 2014 an!

# Aufgabe 14

## Schwimmbad

In ein Schwimmbad wird ab dem Zeitpunkt  $t = 0$  Wasser eingelassen.

Die Funktion  $h$  beschreibt die Höhe des Wasserspiegels zum Zeitpunkt  $t$ . Die Höhe  $h(t)$  wird dabei in dm gemessen, die Zeit  $t$  in Stunden.

### Aufgabenstellung:

Interpretieren Sie das Ergebnis der folgenden Berechnung im gegebenen Kontext!

$$\frac{h(5) - h(2)}{5 - 2} = 4$$

# Aufgabe 15

## Sinusfunktion und Cosinusfunktion

Gegeben sind die Funktionen  $f$  mit  $f(x) = \sin(a \cdot x)$  und  $g$  mit  $g(x) = a \cdot \cos(a \cdot x)$  mit  $a \in \mathbb{R}$ .

**Aufgabenstellung:**

Welche Beziehung besteht zwischen den Funktionen  $f$  und  $g$  und deren Ableitungsfunktionen?  
Kreuzen Sie diejenige Gleichung an, die für alle  $a \in \mathbb{R}$  gilt!

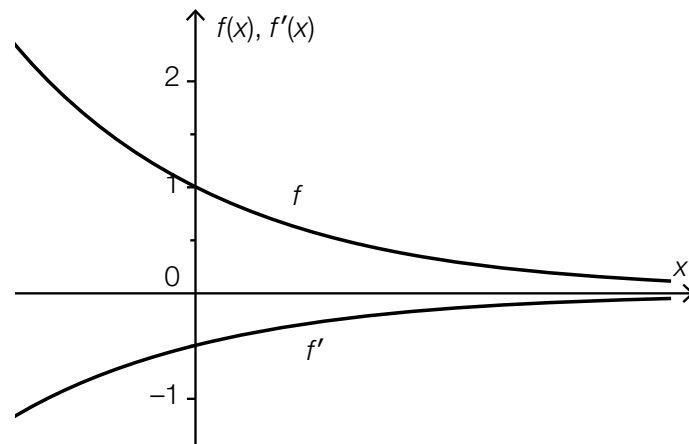
$a \cdot f'(x) = g(x)$	<input type="checkbox"/>
$g'(x) = f(x)$	<input type="checkbox"/>
$a \cdot g(x) = f'(x)$	<input type="checkbox"/>
$f(x) = a \cdot g'(x)$	<input type="checkbox"/>
$f'(x) = g(x)$	<input type="checkbox"/>
$g'(x) = a \cdot f(x)$	<input type="checkbox"/>

# Aufgabe 16

## Differenzieren einer Exponentialfunktion

Gegeben ist eine Funktion  $f$  mit  $f(x) = e^{\lambda \cdot x}$  mit  $\lambda \in \mathbb{R}$ .

Die nachstehende Abbildung zeigt die Graphen der Funktion  $f$  und ihrer Ableitungsfunktion  $f'$ .



Aufgabenstellung:

Geben Sie den Wert des Parameters  $\lambda$  an!

$\lambda =$  \_\_\_\_\_

# Aufgabe 17

## Zeit-Weg-Funktion

Die geradlinige Bewegung eines Autos wird mithilfe der Zeit-Weg-Funktion  $s$  beschrieben. Innerhalb des Beobachtungszeitraums ist die Funktion  $s$  streng monoton wachsend und rechtsgekrümmt.

### Aufgabenstellung:

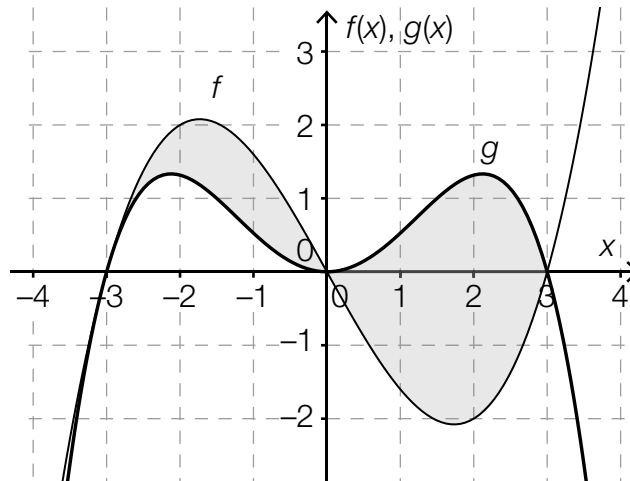
Kreuzen Sie die beiden für diesen Beobachtungszeitraum zutreffenden Aussagen an!

Die Geschwindigkeit des Autos wird immer größer.	<input type="checkbox"/>
Die Funktionswerte von $s'$ sind negativ.	<input type="checkbox"/>
Die Funktionswerte von $s''$ sind negativ.	<input type="checkbox"/>
Der Wert des Differenzenquotienten von $s$ im Beobachtungszeitraum ist negativ.	<input type="checkbox"/>
Der Wert des Differenzialquotienten von $s$ wird immer kleiner.	<input type="checkbox"/>

# Aufgabe 18

## Flächeninhaltsberechnung

In der nachstehenden Abbildung sind die Graphen der Polynomfunktionen  $f$  und  $g$  dargestellt. Diese schneiden einander an den Stellen  $-3$ ,  $0$  und  $3$  und begrenzen die beiden grau markierten Flächenstücke.



**Aufgabenstellung:**

Welche der nachstehenden Gleichungen geben den Inhalt  $A$  der (gesamten) grau markierten Fläche an? Kreuzen Sie die beiden zutreffenden Gleichungen an!

$A = \left  \int_{-3}^3 (f(x) - g(x)) dx \right $	<input type="checkbox"/>
$A = 2 \cdot \int_0^3 (g(x) - f(x)) dx$	<input type="checkbox"/>
$A = \int_{-3}^0 (f(x) - g(x)) dx + \int_0^3 (g(x) - f(x)) dx$	<input type="checkbox"/>
$A = \left  \int_{-3}^0 (f(x) - g(x)) dx \right  + \int_0^3 (f(x) - g(x)) dx$	<input type="checkbox"/>
$A = \int_{-3}^0 (f(x) - g(x)) dx + \left  \int_0^3 (f(x) - g(x)) dx \right $	<input type="checkbox"/>

# Aufgabe 19

## Stängel-Blatt-Diagramme

Die nachstehenden Stängel-Blatt-Diagramme zeigen die Anzahl der Kinobesucher/innen je Vorstellung der Filme *A* und *B* im Lauf einer Woche. In diesen Diagrammen ist die Einheit des Stängels 10, die des Blattes 1.

Film A	
2	0, 3, 8
3	6, 7
4	1, 1, 5, 6
5	2, 6, 8, 9
6	1, 8

Film B	
2	1
3	1, 4, 5
4	4, 5, 8
5	0, 5, 7, 7
6	1, 2
7	0

### Aufgabenstellung:

Kreuzen Sie diejenige(n) Aussage(n) an, die bezogen auf die dargestellten Stängel-Blatt-Diagramme mit Sicherheit zutrifft/zutreffen!

Es gab in dieser Woche mehr Vorstellungen des Films <i>A</i> als des Films <i>B</i> .	<input type="checkbox"/>
Der Median der Anzahl der Besucher/innen ist bei Film <i>A</i> größer als bei Film <i>B</i> .	<input type="checkbox"/>
Die Spannweite der Anzahl der Besucher/innen ist bei Film <i>A</i> kleiner als bei Film <i>B</i> .	<input type="checkbox"/>
Die Gesamtanzahl der Besucher/innen in dieser Woche war bei Film <i>A</i> größer als bei Film <i>B</i> .	<input type="checkbox"/>
In einer Vorstellung des Films <i>B</i> waren mehr Besucher/innen als in jeder einzelnen Vorstellung des Films <i>A</i> .	<input type="checkbox"/>

## Aufgabe 20

### Schätzwert für eine Wahrscheinlichkeit

In einer Fabrik wird mithilfe einer Maschine ein Produkt erzeugt, von dem jeweils 100 Stück in eine Packung kommen.

Im Anschluss an eine Neueinstellung der Maschine werden drei Packungen erzeugt. Diese Packungen werden kontrolliert und es wird die jeweilige Anzahl darin enthaltener defekter Stücke ermittelt. Die Ergebnisse dieser Kontrollen sind in der nachstehenden Tabelle zusammengefasst.

in der ersten Packung	6 defekte Stücke
in der zweiten Packung	3 defekte Stücke
in der dritten Packung	4 defekte Stücke

Die Fabriksleitung benötigt einen auf dem vorliegenden Datenmaterial basierenden Schätzwert für die Wahrscheinlichkeit  $p$ , dass ein von der neu eingestellten Maschine erzeugtes Stück fehlerhaft ist.

#### Aufgabenstellung:

Geben Sie einen möglichst zuverlässigen Schätzwert für die Wahrscheinlichkeit  $p$  an, dass ein von der neu eingestellten Maschine erzeugtes Stück fehlerhaft ist!

$p =$  \_\_\_\_\_



# Aufgabe 21

## Mensch ärgere Dich nicht

Um beim Spiel *Mensch ärgere Dich nicht* zu Beginn des Spiels eine Figur auf das Spielfeld setzen zu dürfen, muss mit einem fairen Spielwürfel ein Sechser geworfen werden. (Ein Würfel ist „fair“, wenn die Wahrscheinlichkeit, nach einem Wurf nach oben zu zeigen, für alle sechs Seitenflächen gleich groß ist.)

Die Anzahl der Versuche, einen Sechser zu werfen, ist laut Spielanleitung auf drei Versuche beschränkt, bevor die nächste Spielerin/der nächste Spieler an die Reihe kommt.

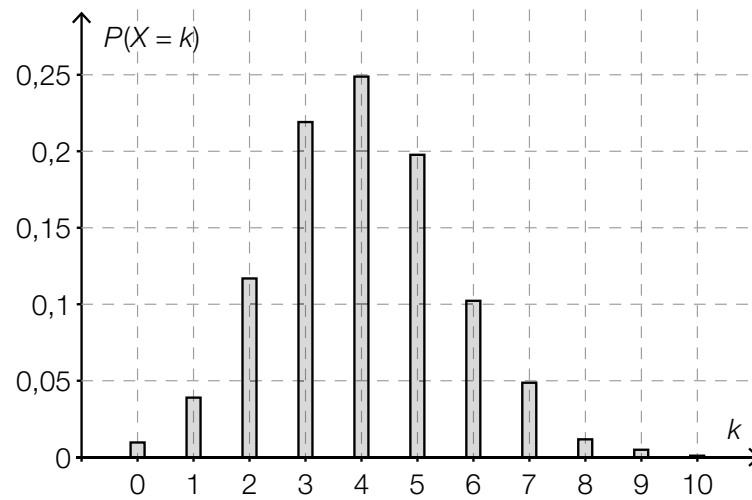
### Aufgabenstellung:

Berechnen Sie die Wahrscheinlichkeit, mit der eine Spielfigur nach maximal drei Versuchen, einen Sechser zu werfen, auf das Spielfeld gesetzt werden darf!

## Aufgabe 22

### Wahrscheinlichkeit bestimmen

Die nachstehende Abbildung zeigt die Wahrscheinlichkeitsverteilung einer Zufallsvariablen  $X$ .



Aufgabenstellung:

Geben Sie mithilfe dieser Abbildung näherungsweise die Wahrscheinlichkeit  $P(4 \leq X < 7)$  an!

$P(4 \leq X < 7) \approx$  \_\_\_\_\_

## Aufgabe 23

### Reifen

Die Wahrscheinlichkeit, dass ein neuer Autoreifen einer bestimmten Marke innerhalb der ersten 10000 Kilometer Fahrt durch einen Materialfehler defekt wird, liegt bei  $p$  %.

Eine Zufallsstichprobe von 80 neuen Reifen dieser Marke wird getestet.

### Aufgabenstellung:

Geben Sie einen Ausdruck an, mit dem man die Wahrscheinlichkeit, dass mindestens einer dieser Reifen innerhalb der ersten 10000 Kilometer Fahrt durch einen Materialfehler defekt wird, berechnen kann!

## Aufgabe 24

### Konfidenzintervall

Für eine Wahlprognose wird aus allen Wahlberechtigten eine Zufallsstichprobe ausgewählt. Von 400 befragten Personen geben 80 an, die Partei Y zu wählen.

#### Aufgabenstellung:

Geben Sie ein symmetrisches 95-%-Konfidenzintervall für den Stimmenanteil der Partei Y in der Grundgesamtheit an!